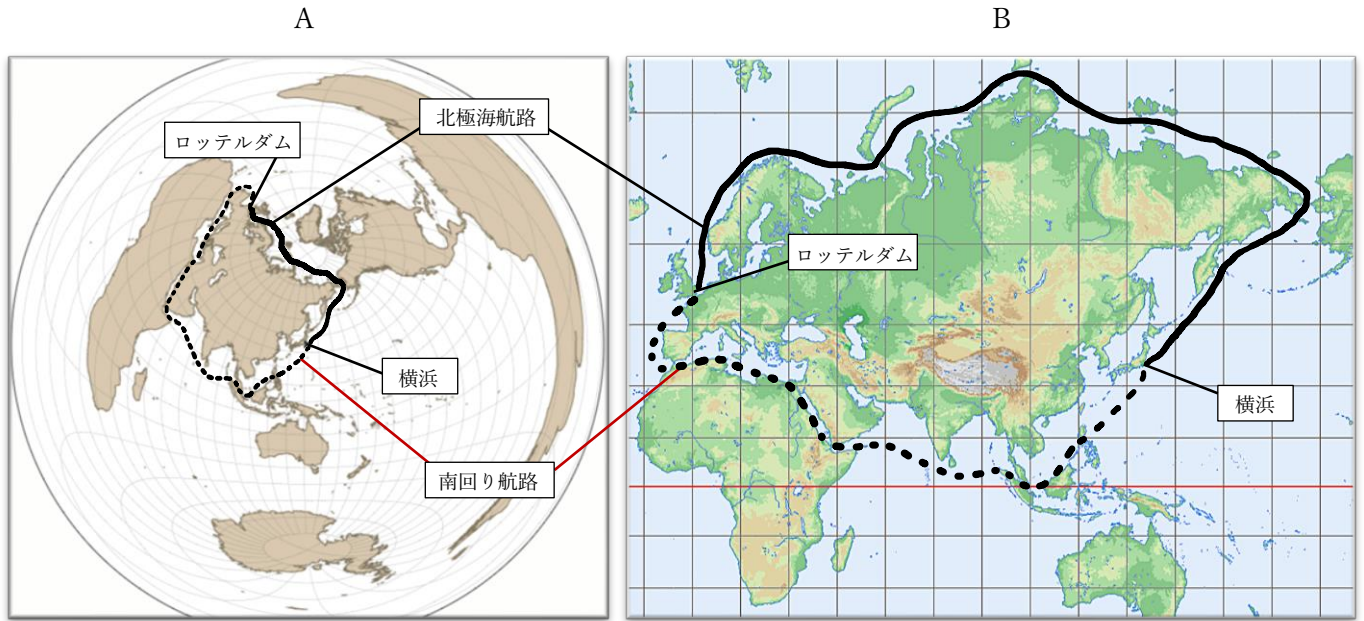


1. 次の地図A・Bを見て、あとの問い（1）～（4）に答えなさい。



(1) 地図中の横浜とロッテルダムをつなぐ2つの航路に関して述べた文章（a～d）について、それぞれの航路の説明として正しい組み合わせを、（あ）～（え）より1つ選び、記号で答えなさい。

<南回り航路>

- a：中東の政治的紛争が解消され、安全な航行ができるようになった。
- b：地中海と紅海を結ぶ交通路であるスエズ運河を通行する。

<北極海航路>

- c：ロシアやカナダ、グリーンランドの間の海を航行することとなる。
- d：南回り航路と比べると、航行距離が長く、多くの燃料を必要とする。

（あ） aとc      （い） aとd      （う） bとc      （え） bとd

- (2) 北極海航路は、世界的な問題にもなっている、ある環境問題により近年、航行できる時期が長くなってきている。その環境問題とは何か、漢字5文字で答えなさい。
- (3) Bの地図で使用されている図法の名称を答えなさい。
- (4) 地図中の横浜の港は、江戸時代の末期に交わされた日米間の条約によって開かれた。開港直後、この港から最も多く輸出された商品は何か、下の資料を参考に答えなさい。

資料



〈横浜開港資料館蔵〉

2. 洋くんの班では、社会科の探究学習で米（水稻）をテーマとして調査を行った。洋くんがまとめた資料を見て、あとの問い（1）～（3）に答えなさい。

資料1  
米（水稻）の説明

米（水稻）は、気温が高く、雨が多い地域で多く栽培されている。例えば、中国では、寒冷で乾燥している北部ではあまり栽培されず、湿潤である南部で多く栽培されている。

資料2

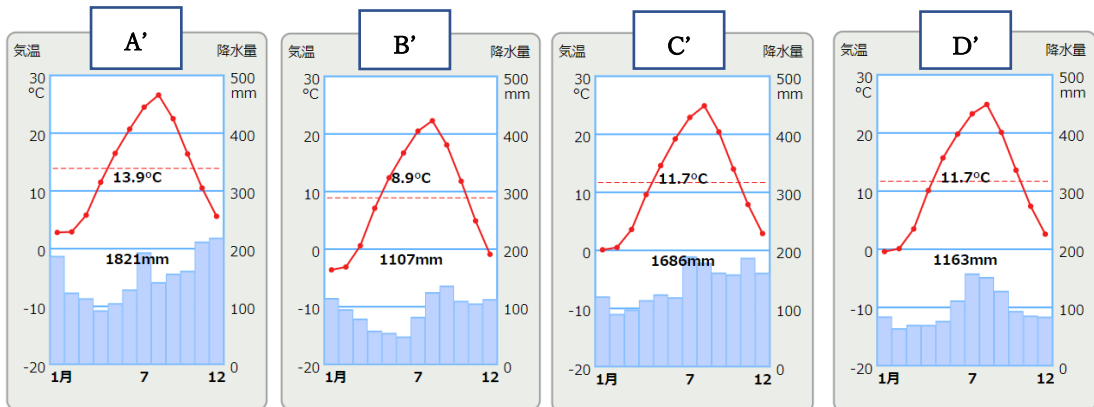
国内の米（水稻）の生産量上位4県と全国に占める割合

県名	生産量（t）	割合（%）
A	627,600（t）	8.10
B	514,800（t）	6.60
C	491,100（t）	6.30
D	374,100（t）	4.80

〈農林水産省「作物統計」平成30年 より〉

資料3

資料2のA～Dの4県の県庁所在地（A'～D'）雨温図



(1) 資料2のA～Dに共通する特徴と、資料3の雨温図の正しい組み合わせを、(あ)～(え)より1つ選び、記号で答えなさい。

- (あ) 月平均気温は1月に最も低くなり、月降水量は100mmを下回る月はない。
- (い) 月平均気温は8月に最も高くなり、月降水量は6月に最も多くなる。
- (う) 年平均気温は20°C以下で、年降水量は1000mm以上ある。
- (え) 月平均気温が0°C以下になる月はなく、9月の月降水量は200mm以上ある。

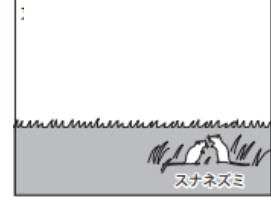
(2) 資料2のA～Dは、右の地図中の色塗りされている都道府県のいずれかである。A～Dに当てはまる都道府県名をそれぞれ答えなさい。



(3) 洋くんは、東北地方では太平洋側と比べ、日本海側の方が、米（水稲）作が盛んであることに気がつきました。さらなる調査の結果、太平洋側の米（水稲）収穫量に影響を与える、ある「風」の存在を知りました。ある「風」の名称と、それにより起こる「自然災害」の名称を明示しながら、東北地方の太平洋側の米（水稲）作が日本海側ほど盛んでない理由を 30 字以内で答えなさい。

3. 次の資料A～Dを見て、あとの問いに答えなさい。

<資料> A (草木とまばらな樹木)    B (植物は育たない)    C (オアシスでは植物が育つ)    D (丈の短い草原)



(1) 資料A～Dは「世界の様々な地域」にみられる「気候」の特徴を示したものである。A～Dにおける「気候」の名称を語群より選び、それぞれ答えなさい。

<語群>

ステップ気候    ツンドラ気候    サバナ気候    氷雪気候    温帯湿潤気候    砂漠気候

4. 壬生くんは授業で「鎌倉幕府の成立年は1192年以外にも諸説ある」という話を聞き、有力と思われた2つの説について情報をまとめた。壬生くんがまとめた2枚のカードを見て、あとの問い(1)・(2)に答えなさい。

1185年説

この年に( A )このことが、鎌倉幕府の始まりの根拠となっている。

1192年説

この年に源頼朝が( B )に任命された。このことが、鎌倉幕府の始まりの根拠となっている。

(1) 空欄( A )に入る文章(a・b)と、その説明(c～f)の正しい組み合わせを、(あ)～(え)より1つ選び、記号で答えなさい。

( A )

a: 国ごとに守護を、荘園、公領ごとに地頭を置く権限を朝廷に認められた。

b: 平家を壇ノ浦の戦いで滅ぼした。

<説明>

c: 全国に設置された地頭が荘園や公領の農民から年貢を取り立て、頼朝に献上する仕組みができた。

d: 守護や地頭に任命された武士は頼朝の家来であり、この主従関係をもとに各地の住民を支配する仕組みができた。

e: 平家を滅ぼすことで、頼朝に敵対する勢力はいなくなり、東北から九州までの全ての地域を支配下に置くようになった。

f: 平家を滅ぼした際、平家に味方した皇族や貴族から土地を取り上げて東国の武士に与え、西国へも影響力を及ぼすようになった。

(あ) aとc    (い) aとd    (う) bとe    (え) bとf

(2) 空欄( B )に入る語句を漢字5文字で答えなさい。

5. 次の資料を見て、あとの問い(1)～(3)に答えなさい。

このごろ都にはやるものは、夜討ち、強盗、にせの天皇の文書。囚人をとらえたり、早馬、意味のない騒動など。また、僧侶から俗人にもどる人々と、勝手に僧侶になる人々も目立つ。恩賞で名もない土豪から急に大名になった者がいるかと思うと、路頭に迷う者もいる。

『二条河原の落書』(現代語訳し、一部わかりやすい表現に改変してある)

(1) この資料は、時の政府が置かれていた二条富小路のすぐ東にある、二条河原に掲げられたとされる落書である。この時に行われていた天皇中心の政治を何というか、答えなさい。

(2) この時の天皇を、(あ)～(え)より1つ選び、記号で答えなさい。

(あ) 後白河天皇 (い) 後醍醐天皇 (う) 後水尾天皇 (え) 白河天皇

(3) この時期の社会の様子として最も適切なものを、(あ)～(え)より1つ選び、記号で答えなさい。

(あ) 商人や手工業者が座と呼ばれる同業者の組織をつくり、宋から輸入された銅銭を使用した。

(い) 武士は農民を使って農業を営み、天皇や上皇に荘園を寄進した。

(う) 守護の多くが新しい権限を与えられ自分の領地を拡大し、守護大名に成長した。

(え) 家臣や領内の民衆の行動を統制する分国法が制定された。

6. 次の資料A～Cを見て、あとの問いに答えなさい。

資料A

江戸幕府打倒に努め、新政府の中で改革に取り組んだ。しかし、意見の対立があり辞職した。鹿児島に戻ると、新政府に不満を持つ士族に推されて戦争をおこした。

資料B

ヨーロッパで憲法を学び、帰国後は内政改革に取り組み、中心となって草案をつくり、1889年に国家運営の基本となる法律が発布された。

資料C

政府を去ったあと、言論による政治転換をはかった。国会開設や憲法制定などを求める運動の中心となり、国会の開設に備えて、1881年に最初の政党をつくった。

問 資料A～Cについて、資料と関係が深い〈人物〉・〈出来事〉の正しい組み合わせを、(あ)～(お)より1つ選び、記号で答えなさい。

〈人物〉

① 西郷隆盛 ② 大隈重信 ③ 伊藤博文 ④ 木戸孝允 ⑤ 板垣退助

〈出来事〉

a 西南戦争 b 憲法制定 c 戊辰戦争 d 立憲改進黨結成 e 自由党結成 f 民法制定

(あ) A-②-c、 B-③-f、 C-④-d

(い) A-③-a、 B-②-f、 C-⑤-d

(う) A-①-a、 B-③-b、 C-⑤-e

(え) A-③-c、 B-④-b、 C-①-e

(お) A-①-a、 B-③-f、 C-②-d

7. 次の年表を見て、あとの問い(1)～(7)に答えなさい。

西暦年代	出来事
1894	日清戦争が始まる
1895	下関条約が結ばれる・・・(A) <span style="border: 1px solid black; padding: 2px;">(B)</span>
1904	日露戦争が始まる
1905	ポーツマス条約が結ばれる・・・(C)
1914	第一次世界大戦が始まる・・・(D)
1920	国際連盟が設立される・・・(E)
1929	世界恐慌が始まる・・・(F)
1931	満州事変がおこる・・・(G)

(1) 年表中(A)の内容として正しいものを、(あ)～(え)より1つ選び、記号で答えなさい。

- (あ) 賠償金を日本に支払う。
- (い) 朝鮮における日本の優越権を認める。
- (う) 樺太の南半分を日本に譲る。
- (え) 日本に山東省の利権を譲る。

(2) 年表中(B)の期間の出来事として正しいものを、(あ)～(え)より1つ選び、記号で答えなさい。

- (あ) 甲午農民戦争がおこった。
- (い) 日英同盟が結ばれた。
- (う) 日本が韓国を併合した。
- (え) 日本の関税自主権が完全に回復した。

(3) 年表中(C)の後におこった出来事として正しいものを、(あ)～(え)より1つ選び、記号で答えなさい。

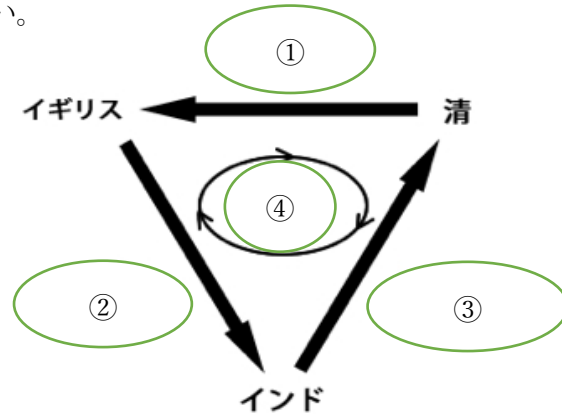
- (あ) 義和団事件がおこった。
- (い) 日比谷焼打ち事件がおこった。
- (う) 日朝修好条規が締結された。
- (え) 台湾が日本領となった。

(4) 年表中(D)の後の動きとして正しいものを、(あ)～(え)より1つ選び、記号で答えなさい。

- (あ) ドイツはヴィルヘルム2世の指導で世界政策をすすめた。
- (い) 日本では米騒動の後、立憲政友会の原敬が政党政治をすすめた。
- (う) 辛亥革命により、清朝が滅び、中華民国が成立した。
- (え) 朝鮮で腐敗した役人の追放や外国人排斥を求めて三・一独立運動がおこった。

- (5) 年表中 ( E ) の設立を提案したアメリカ大統領を答えなさい。
- (6) 年表中 ( F ) に対して、イギリスやフランスなどがおこなった、植民地との結びつきを強め、他国の製品を締め出す経済政策を何というか、答えなさい。
- (7) 年表中 ( G ) の後、日本では 1932 年に海軍将校らによる首相暗殺事件が発生した。この事件を何というか、答えなさい。

8. 次の図は、19 世紀の中国・イギリス・インドの貿易関係に関するものである。この図を見て、あとの問い (1) ~ (3) に答えなさい。



(1) 図中①~④に当てはまる語句の正しい組み合わせを、(あ) ~ (え) より 1 つ選び、記号で答えなさい。

	( ① )	( ② )	( ③ )	( ④ )
(あ)	茶	綿製品	アヘン	銀
(い)	生糸	アヘン	綿製品	金
(う)	綿製品	アヘン	生糸	銀
(え)	茶	綿製品	アヘン	金

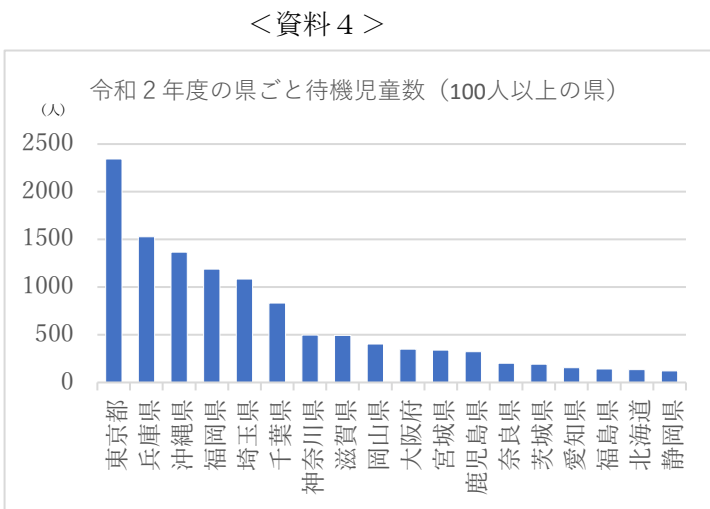
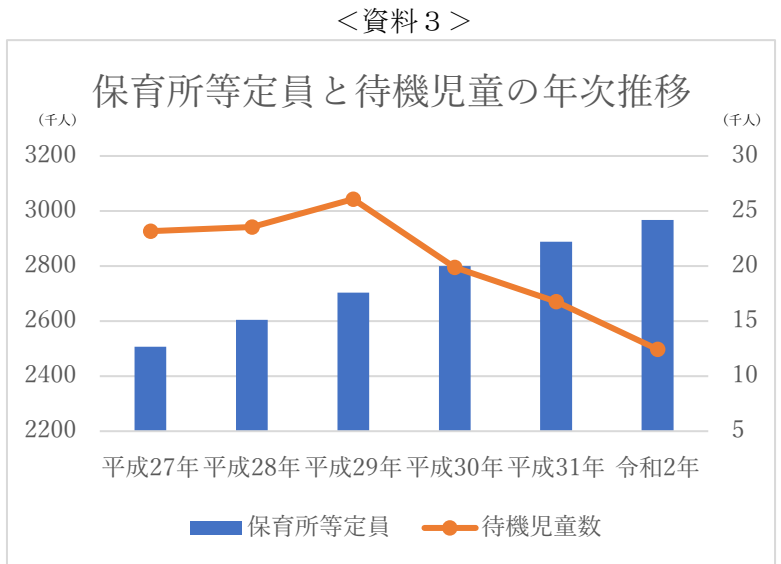
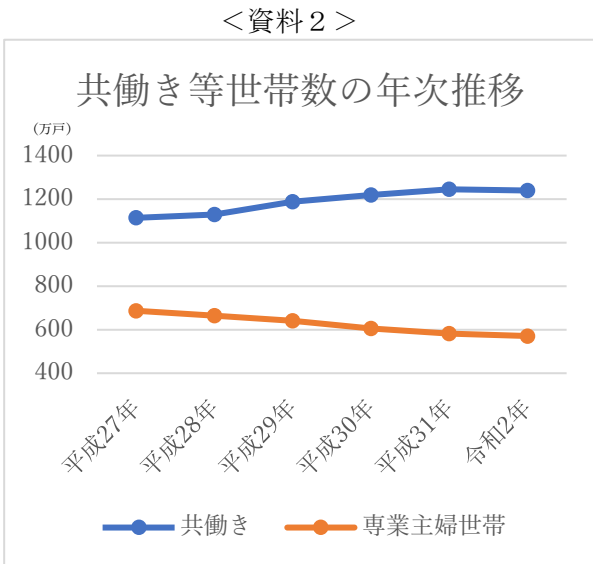
- (2) この後、1840 年に戦争がおこり、1842 年に清は敗北してイギリスと南京条約を結んだ。このとき、イギリスが清から割譲された地域を答えなさい。
- (3) 清がイギリスに敗北した知らせは、隣国の日本にもすぐに伝えられた。この時、幕府は外交政策を大きく転換させた。幕府がどのように外交政策を変化させたかについて、以下の文章の空欄に適切な文章を 15 文字以内で記述しなさい。

「(            ), 日本に接近する外国船に薪や水を与え退去させることとした。」

9. 中根くんは授業で、「日本の少子高齢化問題」を学んだのち、「少子化と育児環境」に注目し、これについてより深く考察するために、いくつかの資料を作成した。中根くんが作成した資料を見て、あとの問い(1)・(2)に答えなさい。

＜資料1＞ 少子高齢化の原因とその影響として考えられること

原因	<ul style="list-style-type: none"> <li>・男女ともに晩婚化が進むとともに、生涯未婚率も上がっている。・・・・・・・・(あ)</li> <li>・医療技術の進歩などを背景に、平均寿命が伸び、人口が増加している。・・・・・・・・(い)</li> <li>・仕事と育児の両立ができる環境が整っていないことへの不安がある。</li> </ul>
影響	<ul style="list-style-type: none"> <li>・医療、年金支出の増加により、国民一人あたりの社会保障費の負担額が増加する。・・(う)</li> <li>・労働人口の減少により、経済成長が低下する可能性がある。・・・・・・・・(え)</li> </ul>



＜資料5＞

アンケート

追加の子どもを実現できない理由

収入が不安定	30.5%
夫の仕事の事情	20.0%
育児の協力者がいない	11.3%
保育所などの預け先がない	12.7%
年齢・健康上の理由	41.6%

\* 子どもを1人以上を持つ夫婦に対してのアンケート  
(平成25年度 厚生労働白書 より作成)

(1) 資料2～5から読み取れる最も適切なものを、(あ)～(え)より1つ選び、答えなさい。

- (あ) 保育所不足の問題は、夫婦が子どもを複数持たない最大の原因となっている。
- (い) 共働き世帯が増加しているが、保育所等の定員数は増えていない。
- (う) 令和2年の待機児童数は直近5年のピークと比べると半数近くになっている。
- (え) 待機児童の数が比較的多いのはすべて、大都市のある都道府県である。

(2) 中根くんの作成した資料1には、一箇所誤った記述がある。誤っている文章を、資料1の(あ)～(え)より1つ選び、記号で答えなさい。

10. 基本的人権や個人の権利について、あとの問い(1)～(3)に答えなさい。

(1) 次の資料に関係するものとして最も適切なものを、(あ)～(え)より1つ選び、答えなさい。

第151条 経済生活の秩序は、すべての者に人間たるに値する生活を保障する目的をもつ正義の原則に適合しなければならない。

- (あ) マグナ=カルタ      (い) ワイマール憲法      (う) アメリカ独立宣言      (え) 権利の章典

(2) 自由権について、精神の自由に当てはまる正しい組み合わせを、(あ)～(え)より1つ選び、答えなさい。

- a: 奴隷的拘束・苦役からの自由      b: 学問の自由      c: 財産権      d: 思想・良心の自由  
 e: 逮捕・拘禁などに対する保障      f: 居住・移転と職業選択の自由

- (あ) aとc      (い) bとd      (う) cとe      (え) dとf

(3) スマートフォンに関わる知的財産権とその具体例について、誤っているものを、(あ)～(え)より1つ選び、記号で答えなさい。

	知的財産権	具体例
(あ)	商標登録	ブランド名・ロゴマーク
(い)	著作権	小説・音楽・漫画
(う)	意匠権	スマートフォンのデザイン
(え)	特許権	スマートフォンの構造

11. 政治に関して、あとの問い(1)～(3)に答えなさい。

(1) 日本の政治制度について、空欄( A )～( C )に当てはまる語句の正しい組み合わせを、(あ)～(え)より1つ選び、記号で答えなさい。

日本やイギリスなどの( A )を採用する国では、選挙の結果、議会で多数を占めた政党が( B )として政権を担当する。( B )以外の政党は( C )として政府や( B )の政策に批判を加えたり、提案をしたりする。



	( A )	( B )	( C )
(あ)	議院内閣制	与党	野党
(い)	議院内閣制	野党	与党
(う)	大統領制	与党	野党
(え)	大統領制	野党	与党

(2) 衆議院議員選挙について、内容の正しい組み合わせを、(あ)～(え)より1つ選び、記号で答えなさい。

- a : 小選挙区制と比例代表制を組み合わせた小選挙区比例代表並立制で行われる。
- b : 大選挙区制と比例代表制を組み合わせた大選挙区比例代表並立制で行われる。
- c : 被選挙権は25歳以上で、当選議員数は465名である。
- d : 被選挙権は30歳以上で、当選議員数は248名である。

(あ) aとc      (い) aとd      (う) bとc      (え) bとd

(3) 内閣について、誤っているものを、(あ)～(え)より1つ選び、記号で答えなさい。

- (あ) 内閣総理大臣と国务大臣で組織される。
- (い) 内閣総理大臣は国会の議決により指名される。
- (う) 内閣は閣議を開いて政府の方針を決定する。
- (え) 国务大臣はすべて国会議員でなければならない。

12. 生活や経済について、あとの問い(1)～(3)に答えなさい。

(1) 消費者を守る法制度について、空欄( A )・( B )に入る語句の正しい組み合わせを、(あ)～(え)より1つ選び、記号で答えなさい。

政府は欠陥商品の被害から消費者を守るために、製造業者に被害者の救済を義務づけた( A )法を制定している。また、訪問販売などで商品を購入した場合には、一定期間であれば契約を解除することができる( B )の制度もある。

	( A )	( B )
(あ)	消費者基本	クーリングオフ
(い)	消費者基本	アポイントメントセールス
(う)	製造物責任	クーリングオフ
(え)	製造物責任	アポイントメントセールス

(2) 次の法律 (a・b) と、その内容 (c・d) の正しい組み合わせを、(あ)～(え) より1つ選び、記号で答えなさい。

<法律>

a : 労働関係調整法

b : 労働組合法

<内容>

c : 労働時間や休日、賃金などの労働条件の最低基準が定められている。

d : 労働者が労働条件について使用者と交渉する権利について定められている。

(あ) aとc      (い) aとd      (う) bとc      (え) bとd

(3) 公正かつ自由な競争を促進し、事業者が自主的な判断で自由に活動できるようにすることを目的に定められた法令を何というか、漢字5文字で答えなさい。

13. 国際社会や人類の福祉について、次の文を読み、あとの問い(1)～(3)に答えなさい。

( A ) は経済統合から始まり、今日では政治や外交にまでわたる地域統合をめざしている。1990年代に物や資金の移動が自由になり、また( A ) 域内の国境の多くで人の移動も自由になった。加盟国のうち19か国で共通通貨である( B ) が導入されている。

(1) 空欄( A )・( B )に入る語句の正しい組み合わせを、(あ)～(え)より1つ選び、記号で答えなさい。

( A )

a : ヨーロッパ連合      b : ヨーロッパ共同体

( B )

c : ポンド      d : ユーロ

(あ) aとc      (い) aとd      (う) bとc      (え) bとd

(2) 再生可能エネルギーの説明として、誤っているものを、(あ)～(え)より1つ選び、記号で答えなさい。

(あ) 一度使用しても短時間で自然によって補充される。

(い) 天候などの自然状況に左右され、安定供給が難しい。

(う) 使用後に出る放射性廃棄物の処理のコストがかかる。

(え) 直接的に温室効果ガスを排出せず、国内で生産できる。

(3) 2015年の国連サミットで採択された、「持続可能な開発のための2030アジェンダ」に記載された、17項目のゴールで構成される国際目標を何というか、英略字で答えなさい。

# 解答用紙(1A)

社 会						
問題番号	答の欄	採点欄	問題番号	答の欄	採点欄	
1	(1) あ い (う) え	3	7	(1) (あ) い う え	2	
	(2) 地 球 温 暖 化	3		(2) あ (い) う え	2	
	(3) メルカトル図法	3		(3) あ (い) う え	2	
	(4) 生糸	2		(4) あ (い) う え	2	
2	(1) あ い (う) え	3		(5) ウィルソン大統領	2	
	(2)A 新潟県	2		(6) ブロック経済	2	
	(2)B 北海道	2		(7) 五・一五事件	2	
	(2)C 秋田県	2	(1) (あ) い う え	2		
	(2)D 山形県	2	(2) 香港	2		
	(3) や ま せ に よ る 影 響 で 、 冷 害 が 発 生 し 、 寒 冷 で 乾 燥 す る た め 。	5	8	(3) 異 国 船 打 払 い 令 を 緩 和 し て 、	3	
3	A サバナ気候	2	9	(1) あ い (う) え	3	
	B 氷雪気候	2		(2) あ (い) う え	3	
	C 砂漠気候	2		(1) あ (い) う え	2	
	D ステップ気候	2	(2) あ (い) う え	2		
4	(1) あ (い) う え	3	10	(3) あ い う (え)	2	
	(2) 征 夷 大 将 軍	2		(1) (あ) い う え	2	
5	(1) 建武の新政	2		11	(2) (あ) い う え	2
	(2) あ (い) う え	2	(3) あ い う (え)		2	
	(3) (あ) い う え	2	(1) あ い (う) え		2	
6	問 あ い (う) え お	3	12	(2) あ い う (え)	2	
	49	13		(3) 独占禁止法	2	
				(1) あ (い) う え	2	
				(2) あ い (う) え	2	
				(3) SDGs	2	

受験番号		名前		得点	
------	--	----	--	----	--