

1. 両子さんと先生が、昨年の大河ドラマについて話をしている。会話文を読み、あとの問1～8に答えなさい。

両子「去年の大河ドラマは、①鎌倉幕府の創立を主題としたものでしたね。」

先生「印象に残ったシーンはありましたか。」

両子「今も残る京都の地名がいくつも出ていたとこです。例えば、②鹿ヶ谷とか。」

先生「平家打倒の陰謀事件の舞台となった場所ですね。」

両子「どうして鹿ヶ谷が陰謀の舞台となったのですか。」

先生「諸説ありますが、京の都から人里離れた谷あいの場所で密談に適していたのと、東にある如意ヶ嶽を越えた先に、源氏の氏寺で反平家の一大勢力である三井寺(園城寺)があったためでしょう。」

両子「それなら、密談がばれても、三井寺を頼って③近江に逃げ延びることができそうですね。」

先生「そのとおり。源平の合戦の火蓋が切って落とされたのは現在の④宇治市でしたが、そのときの戦いでは、反平家側として⑤三井寺からも軍勢が出陣しました。⑥筒井浄妙と一来法師の活躍が有名ですね。」

両子「あと、三代将軍源実朝のセリフで、六波羅に幕府を移そうという話が出て驚きました。私の家の近くです。」

先生「実際、ドラマの終盤で描かれた⑦承久の乱では、戦いに勝利した幕府がこの場所に六波羅(X)を設置しましたね。実は、この地はもともと、平家一門の邸宅があった場所です。」

両子「なるほど。跡地にある六波羅蜜寺に平清盛像や清盛の塚が残るのはそういう由来があるからなんですね。」

問1 下線部①に関連する下の人物の名前A・Bと行ったことC・Dの正しい組み合わせを(あ)～(え)より1つ選び、記号で答えなさい。



幕府の力が増してきた頃、御家人同士の領地争いが多くなってきたんだ。そこで、武家のしきたりや頼朝以来の先例を整理して、51か条からなる法律を制定し、幕府の裁判の基準や御家人の権利・義務をはっきりさせたよ。

〈名前〉

A 北条時政

B 北条泰時

〈行ったこと〉

C 御成敗式目の制定

D 大宝律令の制定

(あ) AとC

(い) AとD

(う) BとC

(え) BとD

問2 下線部②に関して、鹿ヶ谷発祥の野菜で、現在でも安楽寺(左京区鹿ヶ谷)で中風除けにふるまわれるなどするブランド京野菜は何か。次の(あ)～(え)より1つ選び、記号で答えなさい。

(あ) 水菜

(い) かぼちゃ

(う) だいこん

(え) ごぼう

問3 下線部③は近畿圏のある府県の旧国名である。現在どこの府県にあたるか答えなさい。

問4 下線部④に関する文章A～Dのうち、正しい組み合わせを(あ)～(え)より1つ選び、記号で答えなさい。

A 現代でも日本三大銘茶に数えられる宇治茶の生産が鎌倉時代に開始された。

B 西陣織と呼ばれる絹織物が伝統的な産業として有名である。

C 平安時代を代表する浄土庭園のある平等院がある。

D 源氏の氏神で、必勝・弓矢の神として信仰される石清水八幡宮がある。

(あ) AとC (い) AとD (う) BとC (え) BとD

問5 下線部⑤に関して、平安時代の中期ごろから大寺院は自衛のために兵を保持し、権力者への強訴などを繰り返した。大寺院が保持した、武装した僧侶を漢字2文字でなんといいか答えなさい。

問6 下線部⑥に関して、京都のある祭りでは一來法師が師である筒井浄妙の頭上を飛び越え先陣をとった逸話をモチーフとした山鉾が曳かれている。この祭りの名称を、(あ)～(え)より1つ選び、記号で答えなさい。



(あ) 葵祭 (い) 時代祭 (う) 祇園祭 (え) 流鏝馬神事

問7 下線部⑦に関して、このとき朝廷から追討令を出された人物A・Bと、追討令を出した上皇C・Dの正しい組み合わせを(あ)～(え)より1つ選び、記号で答えなさい。

〈追討令を出された人物〉

A 北条時房

B 北条義時

〈上皇〉

C 後白河上皇

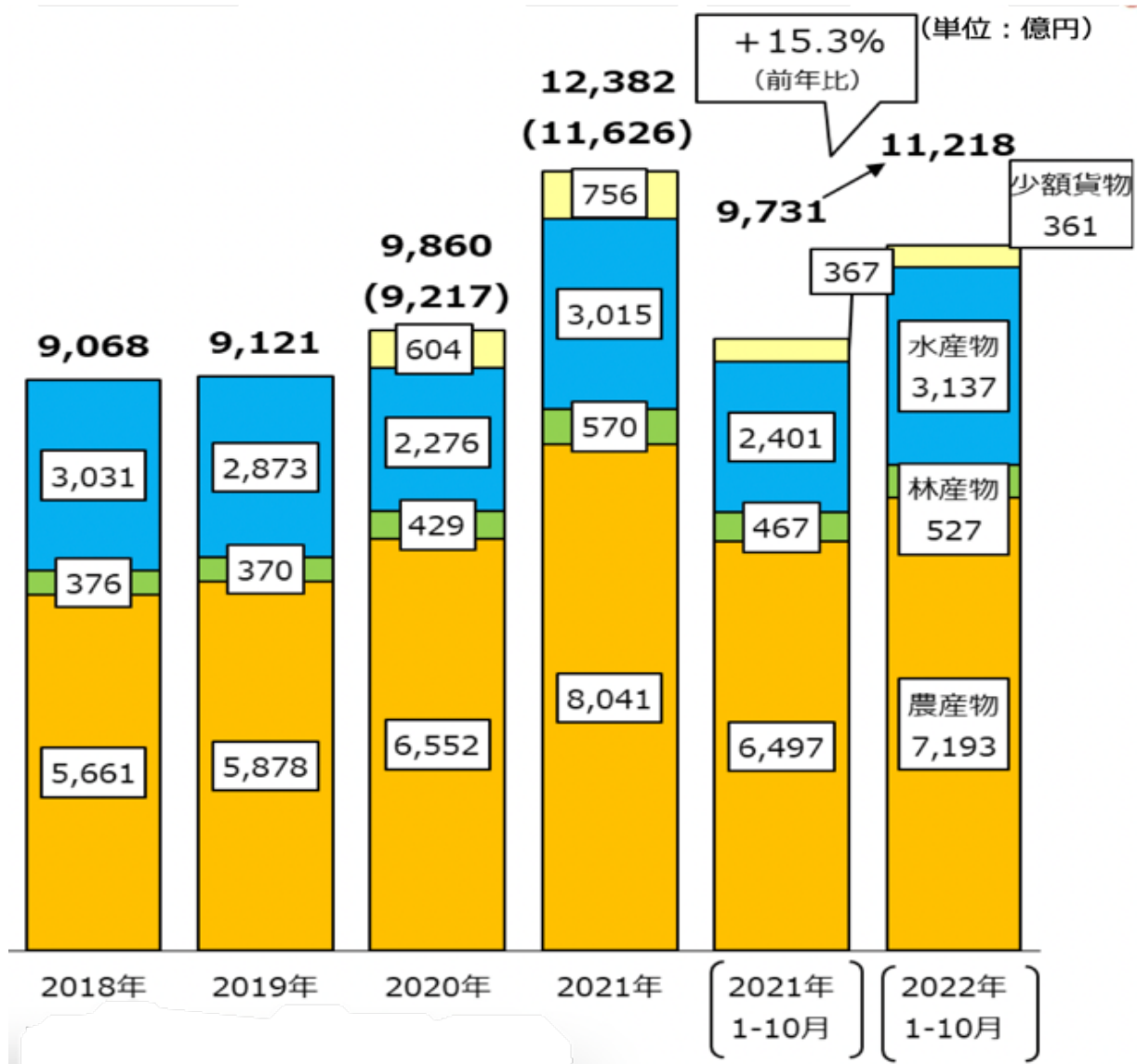
D 後鳥羽上皇

(あ) AとC (い) AとD (う) BとC (え) BとD

問8 空欄(X)に入る語句を漢字2文字で答えなさい。

2. 壬生くんは、冬休みの社会科の宿題で、日本の農作物輸出に関心を持ち、インタビューを含めた調査を行い、資料にまとめた。壬生くんの資料をみて、あとの問1~5に答えなさい。

資料1 食料輸出額の推移



資料2 2022年1月~10月の農産物(一部)輸出額・品目別

品目	金額 (百万円)	前年比 (%)
野菜・果実等	48,038	+15.2
青果物	30,466	+14.2
りんご	8,229	▲ 9.2
ぶどう	4,695	+16.5
いちご	3,810	+28.7
もも	2,896	+24.8
かんしょ*	2,096	+12.5
ながいも	2,087	+15.9
なし	1,141	+34.5
かんきつ**	748	+10.5
かき	474	+49.5

品目	金額 (百万円)	前年比 (%)
畜産物	102,495	+12.9
畜産物	77,312	+9.2
牛肉	41,235	▲ 2.0
牛乳・乳製品	25,339	+26.6
鶏卵	7,253	+46.8
豚肉	1,807	▲ 14.5
鶏肉	1,679	+2.7
穀物等	51,194	+13.4
米(援助米除く)	5,752	+24.3

*かんしょ 「さつまいも」の別称 **かんきつ 主に「みかん」など柑橘類の総称

資料1~2は農林水産省 統計情報により作成

Aさん：鹿児島県の（ X ）農家

私は（ X ）を栽培しているよ。この作物は、江戸時代、8代将軍の（ 1 ）が、飢饉対策として国内での栽培を奨励したんだよ。（ X ）は、気候が暖かければ、痩せた土地でも育つ「救荒作物」と呼ばれていて、私の地元のように火山灰が堆積した養分の少ない土地でもよく育つんだ。価格が高騰している肥料も少なくなくて済むから、他の農家さんよりは助かっているね。意外かもしれないけれど、中国やタイでは、日本の甘くて品質の高い（ X ）が高値で売れるんだよ。

Bさん：栃木県の（ Y ）農家

私はビニールハウスで（ Y ）を作っているよ。ビニールハウスでの栽培は、ハウス内を温める燃料が必要なんだけど、①燃料代の高騰で生産のために必要な資金は増えているんだ。でもね、今年はコロナ禍による移動制限が緩和されてきたり、為替の追い風があったりで、国外向けのものに関してはかなり売れ行きを伸ばしているよ。ブランドの「とちおとめ」なんかは、海外では12粒で1万円の値がついたんだ。

Cさん：島根県の畜産農家

私は海外の富裕層に向けた高級な（ Z ）肉を生産しているよ。でも、関税の影響なんかで、アメリカや中国への輸出が伸び悩んで、今年の輸出額は伸びていないんだ。だから、最近では、欧州での販売を進めるために、環境に優しい飼育をし始めたよ。（ Z ）のゲップは地球温暖化の原因として指摘されているんだけど、私の農場では、メタンガスを削減する効果のある亜麻仁油のカスを餌にしているんだ。欧州の消費者は、こういった②環境への配慮に価値を見出す人も少なくなっているんだよ。これで輸出額が増えるといいけどなあ。

問1 （ X ）～（ Z ）に入る語を、資料2の品目を参考にそれぞれ答えなさい。

問2 空欄（ 1 ）に入る人物は、18世紀に将軍となり、幕政の改革に取り組んだ将軍である。この人物の名称を答えなさい。

問3 インタビューを含む資料から読み取れることA～Dのうち、正しい組み合わせを、（あ）～（え）より1つ選び、記号で答えなさい。

A 歴史的な円安で輸出は不利になったが、移動制限の緩和で外食向けの食料輸出が増加した。

B 歴史的な円安で輸出が有利になり、食料輸出額が前年度の同時期と比べて大幅に増加した。

C 水産物と比べ、農作物の輸出額はこの5年間、安定的に増加している。

D 青果物の輸出額の増加はめざましく、輸出額は畜産物や穀物等を上回っている。

（あ）AとC （い）AとD （う）BとC （え）BとD

問4 下線部①の背景として考えられるできごとA・Bと、その説明C～Fの正しい組み合わせを、次の(あ)～(え)より、2つ選び、記号で答えなさい。

〈できごと〉

A コロナ禍 B ウクライナ戦争

〈説明〉

C 産業が次第に回復し、エネルギー需要が増加したため。

D 消費の冷え込みから生産が減少し、産業に使うエネルギー需要が減少したため。

E ロシアへの経済制裁により、エネルギーの輸入が滞ったため。

F 天然ガス資源国であるウクライナからのエネルギー輸入が滞ったため。

(あ) AとC (い) AとD (う) BとE (え) BとF

問5 下線部②に関して、2015年の国連総会では、「だれひとり取り残さない社会」を標語に設定した17のSDGsが合意されたが、SDGsは日本語ではなんと訳されるか。次の文の空欄に入る言葉を漢字4文字で答えなさい。

【 ○○○○な開発目標 】


3. 文字の歴史に関連する文章【I】～【III】を読み、あとの問1～9に答えなさい。

【I】

紀元前 3000 年ごろ、ナイル川やティグリス川・ユーフラテス川の流域に文明が起こった。これらの地域では、情報を記録し、その場にはいない人にも情報を伝えるために、文字が使用され始めた。文字は契約や納税に関する情報、①法律や②王の命令を書き留めるために使用されるなどした。

問1 下線部①に関して、紀元前 18 世紀頃に古代メソポタミアを統一したバビロニアは、いわゆる「目には目を 歯には歯を」という旨の条文で有名な法典を制定した。その法典の名称を答えなさい。

問2 下線部②に関して、下の資料は、シリア北部の遺跡で発見された、アッシリアという国の王宮に仕える 2 人の書記を描いたものである。アッシリアは、ナイル川下流域からメソポタミア地域という広大な領域を支配し、さまざまな民族を支配した。これに関して、文字の記述の様子 (A・B) と、その文字の名称 (C・D)、記述の方法 (E・F) の正しい組み合わせを (あ)～(く) より 1 つ選び、記号で答えなさい。



〈文字の名称〉

C 楔形文字

D 甲骨文字

〈記述の方法〉

E パピルスという草で作った紙に記述した

F 粘土板に刻まれた

(あ) A と C と E

(い) A と C と F

(う) A と D と E

(え) A と D と F

(お) B と C と E

(か) B と C と F

(き) B と D と E

(く) B と D と F

【Ⅱ】

中国でも黄河流域を中心に古くから文明が起こり、独自の文字が作られた。文字は③王朝の歴史の記述などにも利用されたほか、④思想や知識とともに周辺の国々にも伝えられ、国際的な交流のための道具にもなった。日本も中国の漢字を受容したが、⑤平安時代の中頃からはこれを書き崩し、日本独自の「かな」へと変化させた文学が誕生した。

問3 下線部③に関して、中国の歴史書に記述された日本の様子についての文章A～Cを、古い順番に並べたものとして正しいものを（あ）～（え）より1つ選び、記号で答えなさい。

A 邪馬台国の女王卑弥呼が帯方郡を通じて朝貢し、親魏倭王の称号を授けられた。

B 奴国の使者が貢物を持ってきたので、光武帝が「漢委奴国王」の金印とくみひもを与えた。

C 雄略天皇と比定されている倭王武が上表文を持参して朝貢した。

（あ）A→C→B （い）B→C→A （う）B→A→C （え）C→B→A

問4 下線部④に関する文章のうち、誤っているものを次の（あ）～（え）より1つ選び、記号で答えなさい。

（あ）儒教の経典が朝鮮半島に伝わり、古墳時代の日本へも渡来人と呼ばれる集団がこれを伝えた。

（い）隋や唐の王朝で成立した律令に基づく支配は、8世紀の始めには日本でも成立した。

（う）日本でも歴史書の編纂が行われ、712年に日本最古の歴史書である『日本書紀』が編纂された。

（え）遣唐使によってもたらされた大陸の文物が奈良の東大寺正倉院に収められている。

問5 下線部⑤に関する文章のうち、正しいものを（あ）～（え）より1つ選び、記号で答えなさい。

（あ）源平の争乱をテーマとした『平家物語』が成立した。

（い）紀貫之が日記文学である『土佐日記』を著した。

（う）日本最古の歌集である万葉集が編纂された。

（え）『源氏物語』が清少納言によって書かれた。

問6 下線部⑤に関して、このような変化が起こった原因として考えられるできごとを以下の語句を使用し、30字以内で説明しなさい。

〈 菅原道真 〉

【Ⅲ】

15 世紀以降、活版印刷技術の向上により、文字が人類に与える影響が大きくなった。印刷技術の向上が起こったヨーロッパでは、16 世紀に⑥宗教改革が発生し、カトリック教会の権威が揺らいだ。日本では、活版印刷が活用されるのはヨーロッパよりも遅れた。⑦江戸時代はほとんど使用されなかったが、明治初期に本木昌造らの活躍で活版印刷が広まり、⑧自由民権運動などに影響を与えた。

問7 下線部⑥に関して、これを主導した人物（A・B）と、その人物が行ったこと（C・D）の正しい組み合わせを（あ）～（え）より1つ選び、記号で答えなさい。

〈人物〉

A ザビエル

B ルター

〈行ったことの説明〉

C 印刷で大量生産した聖書を携えて、日本を含むアジアにカトリックを布教した。

D ドイツ語訳した聖書を印刷し、人びとが教会に依らない信仰を持つことを可能にした。

（あ）AとC （い）AとD （う）BとC （え）BとD

問8 下線部⑦に関して、江戸時代の日本では版画での印刷が主であったが、これについて述べた文章のうち、誤っているものを（あ）～（え）より1つ選び、記号で答えなさい。

（あ）浮世絵は菱川師宣が版画を始め、鈴木春信が錦絵と呼ばれる多色刷りを始めると、全盛期を迎えた。

（い）庶民の旅行が盛んになると、喜多川歌麿の「富嶽三十六景」といった風景画が人気を集めた。

（う）井原西鶴の『世間胸算用』など、町人の欲望をテーマにした浮世草子も都市民に多く読まれた。

（え）杉田玄白らがオランダの医学書を翻訳した『解体新書』も出版されるなど、学問の発展にも貢献した。

問9 下線部⑧に関して、下の文章は明治の初期にベストセラーとなったある書物の一部の現代語訳である。この書物の著者（A・B）と、内容の説明（C・D）の正しい組み合わせを（あ）～（え）より1つ選び、記号で答えなさい。

「天は人の上に人を造らず、人の下に人を造らず」と言われている。（中略）しかし、この人間の世界を見渡してみると、賢い人も愚かな人もいる。貧しい人も、金持ちもいる（中略）。こうした雲泥の差と呼ぶべき違いはどうしてできるのだろうか。（中略）『実語教』という本の中に、「人は学ばなければ、智はない。智のないものは愚かな人である」と書かれている。つまり、賢い人と愚かな人との違いは、学ぶか学ばないかによってできるものなのだ。

〈著者〉

A 中江兆民

B 福沢諭吉

〈内容の説明〉

C 人間は平等を説きながらも、経済的な成功のためには個人の学びが重要であると説いた。

D 賢い人となるために、『実語教』などで道徳を身につけることが重要であると説いた。

（あ）AとC （い）AとD （う）BとC （え）BとD

4. 次の文章【I】～【II】を読み、あとの問1～7に答えなさい。

【I】

先生と京子さんが世界の食文化について話している。

京子「この間、インド料理のお店でビリヤニを食べました。炊き込みご飯のようなものでしたが、お米が、普段私達が食べているものとだいぶ違いましたよ。」

先生「いわゆるインディカ米ですね。東アジアを中心とした地域で育てられているジャポニカ米とは違った美味しさがありますね。」

京子「外国では、お米が主食ではない国も多いそうですね。なぜなのでしょう？」

先生「その土地の文化や気候条件が大きく関係しています。その地域で手に入りやすいかどうかはかなり重要ですね。資料を参考にしてみてください。」

京子「なるほど、①お米が生産できる地域は限られているのですね。」

先生「日本を含めた多くの米の栽培地域は（ 1 ）の影響から夏の気温が高く、降水量も多い傾向にありますね。一方で、気温が低い地域では、米以外のものを作って主食としている地域が多いですね。」

京子「昔、旅行に行ったドイツでは、ソーセージや（ 2 ）が食卓に多く並んでいました。ライ麦のパンも初めて食べましたよ。（ 2 ）やライ麦を育てたり、牧畜を行ったりするのが伝統的だったようですね。」

資料

		年間降水量 (mm 自然降水)			
		少	—	—	多
		500	1000	2000	
		かなり少雨	少雨	多雨	かなり多雨
育期の 気温 (°C)	高	ナツメヤシ	サトウキビ 米 トウモロコシ		カカオ豆 コーヒー豆
	低		小麦 ライ麦 じゃがいも		

← 500mm →
牧畜 ← 農耕

(『自然の仕組みがわかる地理学入門』より作成)

問1 下線部①に関連して、下の写真の食べ物は、ある地域の郷土料理「せんべい汁」である。せんべい汁に関する説明文を読み、上の資料も参考に、せんべい汁の発祥とされている地域として正しいものを、次の(あ)～(え)より1つ選び、記号で答えなさい。



せんべい汁の説明

小麦粉を、塩と水を混ぜて鉄鍋で丸く焼いた「せんべい」をあら汁や味噌汁に入れた料理。

この料理の発祥地では、「やませ」と呼ばれる夏の冷たい風の影響で冷害が多く、米がよく取れなかったため、江戸時代から冷害対策として小麦を育てていた。

画像の出典：農林水産省 WEB サイト (https://www.maff.go.jp/j/keikaku/syokubunka/k_ryouri/search_menu/menu/senbei_jiru_aomori.html)

- (あ) 青森県 (い) 茨城県 (う) 愛知県 (え) 香川県

問2 空欄（ 1 ）に入る語句をカタカナ5文字で答えなさい。

問3 空欄（ 2 ）に入る穀物名を、資料を参考に答えなさい。

【II】



問4 Aの山脈の名称を答えなさい。

問5 Bの山脈は南米のある国とある国の自然的国境となっている。Bを国境とする2つの国として正しいものを(あ)～(え)の中から1つ選び、記号で答えなさい。

- (あ) アルゼンチンとブラジル
- (い) チリとコロンビア
- (う) アルゼンチンとチリ
- (え) ペルーとブラジル

問6 Bのような山脈が国境になっている場合、その国境を「自然的国境」というが、世界の国々には、緯線や経線などを使った直線的な国境を持つ国もある。特にヨーロッパ諸国が植民地支配したアフリカに多く見られるこのような国境線を、なんというか。漢字5文字で答えなさい。

問7 次の文章(i)・(ii)は、地図中のV～Zのどの国を説明したものか。それぞれ記号で答えなさい。

(i) 農牧や鉱業が盛んで、肉類、石炭や鉄鉱石などは日本を始めとして多くの国に輸出されている。先住民のアボリジニが存在するが、18世紀以降、白人が住み着き、白人中心の国をつくりあげた。しかし、1970年代に差別的な移民制限政策が廃止され、アジアなどから多くの移民を受け入れ、様々な文化の人々が集う多文化主義の国となった。

(ii) 豊富な森林資源があり、パルプ・製紙工業が発達している。1990年代からはIT産業が勃興したことを皮切りに、エレクトロニクス・電子技術産業が盛んになり、ハイテク製品の輸出も盛んとなった。近年ではSDGsの達成度ランキング1位を獲得し、SDGs先進国としても注目されている。

5. 次の【I】～【III】を読み、それぞれのあとの問1～9に答えなさい。

【I】

中根さんは、SDGsの目標の一つに「ジェンダー平等」があることを知り、日本でのジェンダー平等のありかたを調べた。日本でのジェンダー平等のありかたに関して、あとの問に答えなさい。

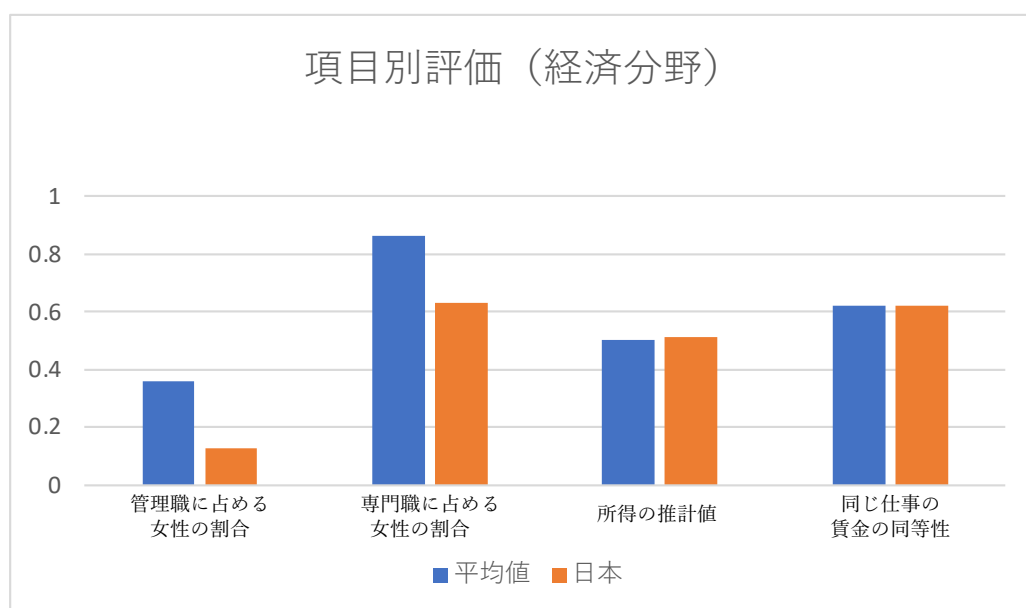
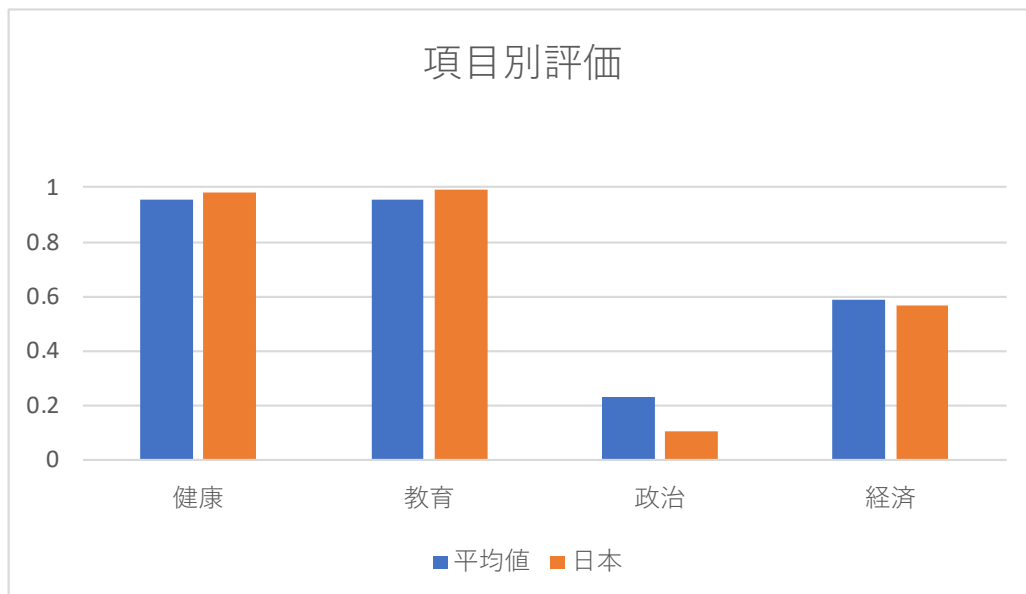
問1 次の資料1・2からわかる日本と世界のジェンダー・ギャップの認識として誤っているものを、(あ)～(き)の中から2つ選び、記号で答えなさい。

資料1 日本の GGI の国際比較

順位	国名	GGI	前年値	前年からの 順位変動
1	アイスランド	0.908	0.892	－
2	フィンランド	0.86	0.861	－
3	ノルウェー	0.845	0.849	－
4	ニュージーランド	0.841	0.84	－
5	スウェーデン	0.822	0.823	－
10	ドイツ	0.801	0.796	↑1
15	フランス	0.791	0.784	↑1
22	英国	0.78	0.775	↑1
25	カナダ	0.772	0.772	↓1
27	米国	0.769	0.763	↑3
63	イタリア	0.72	0.721	－
79	タイ	0.709	0.71	－
83	ベトナム	0.705	0.701	↑4
92	インドネシア	0.697	0.688	↑9
99	韓国	0.689	0.687	↑3
102	中国	0.682	0.682	↑5
115	ブルキナファソ	0.659	0.651	↑9
116	日本	0.65	0.656	↑4
117	モルディブ	0.648	0.642	↑11

GGI とは、ジェンダー・ギャップ指数のことである。経済、教育、政治参加などの分野で、男女の不均衡がどれだけあるのかを示す指標として用いられている。1を最大とし、数値が高いほど平等、数値が低いほど不均衡である状況を示す。

資料2 日本の GGI の項目別評価値と平均値との比較（一部）

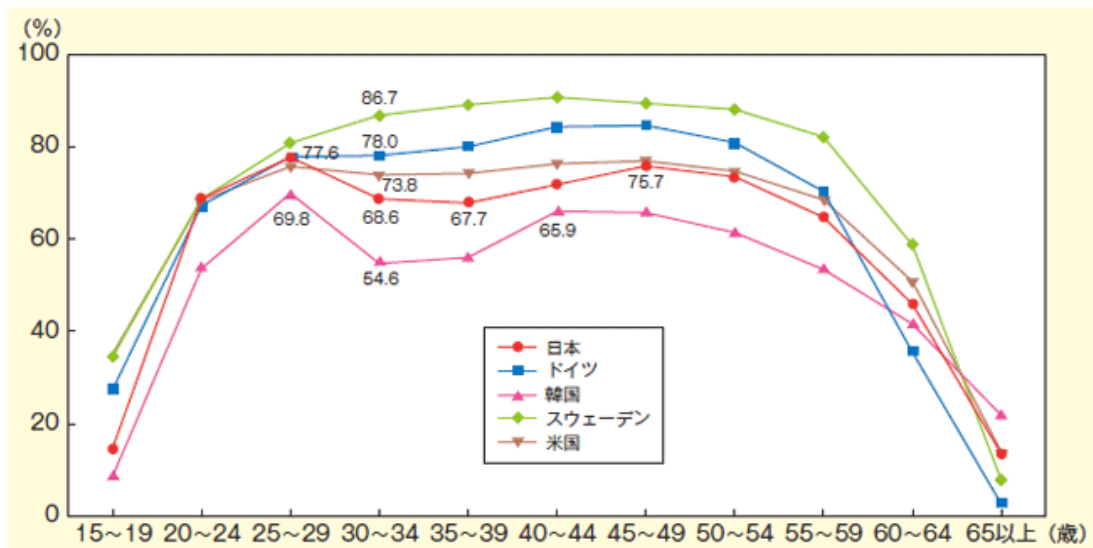


（出所）世界経済フォーラム「The Global Gender Gap Report 2022」をもとに作成

- （あ）政治、経済の面で、日本の GGI は全世界平均を下回っている。
- （い）GGI の高いトップ5の国はすべて、高福祉や国民幸福度の高い北欧の諸国である。
- （う）日本の社会では外国の平均と比べると管理職や専門職に就く女性が顕著に少ない。
- （え）教育の面では、日本はジェンダー・ギャップがほぼないに等しいと言える。
- （お）東アジアおよび東南アジアの国々は、先進国や経済力のある国よりも GGI が低い国が多い。
- （か）日本は前年度よりも不均衡が解消されており、ランキングの順位を伸ばしている。
- （き）政治面での GGI は他の項目と比べ、世界的な平均的より低く、不均衡が大きい状況である。

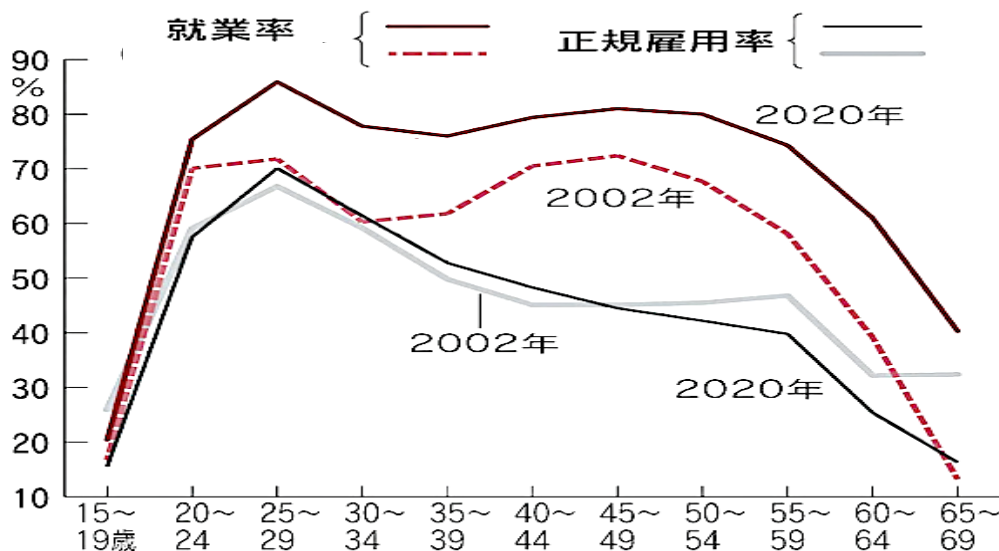
問2 次の資料3・4は、年齢別の女性の就業率や雇用形態の状況に関するものである。資料に見られるように、日本の女性の就業率は、「M字カーブ」と呼ばれる特徴的な曲線が問題視されていた。M字カーブは、結婚や出産を機にいったん仕事をやめたのち、育児が一段落したところで再び働き出す女性が多いという特徴が反映された曲線である。このことを踏まえた上で、資料から考えられることとして適切なものを（あ）～（え）より1つ選び、記号で答えなさい。

資料3 年齢別の女性の労働率（労働力率）の国際比較



(出所) 内閣府男女共同参画局「男女共同参画白書 平成25年版」より

資料4 年齢別の女性の労働率（労働力率）の変化と雇用形態状況



(出所) 日本経済新聞 web ページ (<https://www.nikkei.com/article/DGXMZO47971880Q9A730C1EA2000/>) より

- (あ) 30代で退職する女性の減少から、M字カーブは20年前と比べると解消されてきている。
- (い) 欧米の先進国でも「M字カーブ」はすべての国で見られ、日本独特のものではない。
- (う) 40代以降の女性の労働は、就業率は回復していても非正規労働の割合が増えている。
- (え) 女性の就業率はこの20年で高くなったが、50代以降の就業率は変化がない。

問3 女性を取り巻く労働環境について推察できる（A・B）と、これを改善するための方策として議論されていること（C～F）の組み合わせとして適切なものを（あ）～（え）より2つ選び、記号で答えなさい。

〈女性を取り巻く労働環境〉

A 女性の管理職が少ないのは、出産や育児を機に家庭に割く時間が増えて、キャリアが中断されがちだからだ。

B 女性の所得が少ないのは、非正規雇用で働く人が多く、労働条件に恵まれないことが多いからだ。

〈改善策〉

C 男性の育休取得推進をはかる。

D 家庭のために退職した女性への減税や給付を行う。

E クォーター（クオータ）制を導入する。

F 同一賃金同一労働を導入する。

（あ） A と C （い） A と D （う） A と E （え） A と F

（お） B と C （か） B と D （き） B と E （く） B と F

問4 1985年に施行された、雇用におけるあらゆる男女均等を確保することを定めた法律の名称を漢字9文字で答えよ。

【II】

次の文章は日本国憲法と基本的人権に関して述べたものである。

18世紀の後半に、アメリカがイギリスから独立を宣言したとき、その宣言文の中で、「政府は国民の同意がなければ権力をふるえない」ということを明記した。この考えのもと、アメリカやヨーロッパでは憲法が制定され、王の権力の絶対性を否定し、一箇所に集中した権力が国民の人権を侵すことのないよう、三権分立が採用されるようになり、それぞれの機関が相互に監視し合うとともに、①様々な形で国民の意志を政治に反映させる仕組みを作った。

日本では、第二次世界大戦後、GHQの指導のもとで政治改革が行われ、民主化と②憲法制定が行われ、国民主権と③基本的人権が確立された。

問5 下線部①に関する語句A・Bと、それに関係する機関C・Dの正しい組み合わせを(あ)～(え)より1つ選び、記号で答えなさい。

〈語句〉

A オンブズマン制度

B 国民審査

〈機関〉

C 最高裁判所

D 衆議院

(あ) AとC (い) AとD (う) BとC (え) BとD

問6 下線部②に関して、日本国憲法の3つの原則は、国民主権と基本的人権の尊重と、もう一つはなにか。漢字で答えなさい。

問7 下線部③に関して、近年、基本的人権の内容は社会の変化にともない、より広く捉えられるようになってきている。下の文章は、近年認められるようになってきた権利についての説明であるが、これに当てはまる人権の名称として正しいものを(あ)～(え)の中から1つ選び、記号で答えなさい。

一定の個人的な事柄について、公共の福祉に反しない限り、公権力から干渉されない権利。個人的な事柄とは、たとえば、誰と結婚するのか、どのような髪型にするのか、どのような家族生活をおくるのかなどである。

(あ) 環境権

(い) プライバシーの権利

(う) 自己決定権

(え) 人格権

【Ⅲ】

次の文章は国際貿易に関して述べたものである。

第二次世界大戦後、戦争に勝利した連合国は、戦争の原因の一つに過度なブロック経済化があったと考え、貿易の自由化の仕組みづくりを始めた。1947年には、「関税および貿易に関する一般協定」いわゆるGATTが貿易制限の廃止や自由貿易の推進を目的として制定された。1995年には、GATTが発展的解消をして（ 1 ）が成立した。

しかし、（ 1 ）の加盟国数が拡大すると、参加国間の利害が大きく錯綜することになり、交渉の合意達成が難しくなってきた。そこで、1990年代の後半には、利益を共通にする国同士が、（ 2 ）やEPAなど、地域を限定した貿易の自由化や経済連携を取り決めた協定を結ぶようになった。

問8 空欄（ 1 ）・（ 2 ）に入る語句の組み合わせとして正しいものを（あ）～（え）の中から1つ選び記号で答えなさい。

（ 1 ）

A : WTO

B : WHO

（ 2 ）

C : ILO

D : FTA

（あ）AとC （い）AとD （う）BとC （え）BとD

問9 下線部に関して、協定の具体例A・Bと、その内容C・Dの正しい組み合わせを（あ）～（え）より1つ選び、記号で答えなさい。

〈協定の具体例〉

A : MERCOSUR

B : NAFTA

〈協定の内容〉

C アジア太平洋地域における関税や投資の自由化などを目指し、アメリカや日本が結んだ協定だが、アメリカは2017年に離脱した。

D ブラジルやウルグアイ、アルゼンチンなどの南米諸国が、関税撤廃や域外への共通関税実施を目的として締結した。

（あ）AとC （い）AとD （う）BとC （え）BとD

解答用紙(1A)

社 会													
問題番号		答の欄				採点欄	問題番号		答の欄				採点欄
1	問1	あ	い	う	え	3	3	問7	あ	い	う	え	3
	問2	あ	い	う	え	2		問8	あ	い	う	え	2
	問3	滋賀県				2		問9	あ	い	う	え	2
	問4	あ	い	う	え	3	4	問1	あ	い	う	え	3
	問5	僧兵				2		問2	モンスーン				2
	問6	あ	い	う	え	2		問3	じゃがいも				3
	問7	あ	い	う	え	3		問4	ヒマラヤ山脈				2
	問8	探題				2		問5	あ	い	う	え	2
2	問1	X = かんしよ				2		問6	人為的国境				2
		Y = いちご				2		問7	i = Y				2
		Z = 牛				2			ii = V				2
	問2	徳川吉宗				2	5	問1	あ	い	う	え	4
	問3	あ	い	う	え	3			問2	あ	い	う	
問4	あ	い	う	え	3	問3		あ	い	う	え	4	
問5	持続可能				2	問4		男女雇用機会均等法				2	
3	問1	ハンムラビ法典						2	問5	あ い う え			
	問2	あ	い	う	え		3	問6	平和主義				2
		お	か	き	く			問7	あ	い	う	え	2
	問3	あ	い	う	え	3	問8	あ	い	う	え	2	
	問4	あ	い	う	え	2	問9	あ	い	う	え	3	
問5	あ	い	う	え	2								
問6	菅	原	道	真	の	4							
	議	に	よ	り	、								
	唐	使	が	停	止		さ						
	れ	た	た	め	。								

49

51

受験番号		名前		得点	
------	--	----	--	----	--